

平成 25 年度

第 2 種
機 械

(第 3 時限目)

答案用紙記入上の注意事項

1. マークシート（答案用紙）は機械で読み取りますので、濃度HBの鉛筆又はHBの芯を用いたシャープペンシルで濃く塗りつぶしてください。色鉛筆やボールペンでは機械で読み取ることができません。

なお、訂正は「プラスチック消しゴム」できれいに消し、消しくずを残さないでください。

2. マークシートには氏名、生年月日、試験地及び受験番号を記入し、受験番号のマーク欄にはマークシートに印刷されているマーク記入例に従い、正しくマークしてください。

（受験番号記入例：0141K0123Cの場合）

受 験 番 号									
数 字			記号	数 字			記号		
0	1	4	1	K	0	1	2	3	C
●					●	○	○	○	A
①	●		①		①	●	①	①	B
②		②	②		②	②	●	②	●
③		③	③	●	③	③	③	●	K
④		●	④		④	④	④	④	L
⑤			⑤		⑤	⑤	⑤	⑤	M
⑥			⑥		⑥	⑥	⑥	⑥	●
⑦					⑦	⑦	⑦	⑦	
⑧					⑧	⑧	⑧	⑧	
⑨					⑨	⑨	⑨	⑨	

3. マークシートの余白及び裏面には、何も記入しないでください。

4. マークシートは、折り曲げたり汚したりしないでください。

5. 解答は、マークシートの間番号に対応した解答欄にマークしてください。

例えば、問1の (1) と表示のある間に対して(イ)と解答する場合は、下の例のように問1の(1)の イ をマークします。

なお、マークは各小間につき一つだけです。二つ以上マークした場合には、採点されません。

(マークシートへの解答記入例)

A					問			
問		1					問	
(1)	(2)	(3)	(4)	(5)	(1)	(2)		
●	イ	イ	イ	イ	イ	イ		
ロ	ロ	ロ	ロ	ロ	ロ	ロ		
ハ	ハ	ハ	ハ	ハ	ハ	ハ		
ニ	ニ	ニ	ニ	ニ	ニ	ニ		
ホ	ホ	ホ	ホ	ホ	ホ	ホ		
ヘ	ヘ	ヘ	ヘ	ヘ	ヘ	ヘ		
ト	ト	ト	ト	ト	ト	ト		
チ	チ	チ	チ	チ	チ	チ		
リ	リ	リ	リ	リ	リ	リ		
ヌ	ヌ	ヌ	ヌ	ヌ	ヌ	ヌ		

正解と思われるものの記号の枠内を、マークシートに印刷されているマーク記入例に従い、濃く塗りつぶす方法で示してください。

6. 問7と問8はどちらか1問を選択してください。選択した問題は、マークシートの「選択問題マーク欄」にマークしてください。2問とも選択した場合は採点されません。

(この問題は持ち帰ってください。また、白紙部分はメモ用紙として使用できます。)

次ページ以降は試験問題になっていますので、試験開始の合図があるまで、開いてはいけません。
試験問題に関する質問にはお答えできません。

A問題 (配点は1問題当たり小問各3点, 計15点)

問1 次の文章は、二重かご形誘導電動機に関する記述である。文中の に当てはまる最も適切なものを解答群の中から選びなさい。

一般的な誘導電動機を商用周波数の三相電源で駆動する場合、定格負荷時に比べ、始動時の一次電流は大きい、始動トルクは小さい。一次電流を低減し、始動トルクを増加させる方法として、巻線形誘導電動機では (1) の原理を利用し、二次巻線と直列に抵抗を挿入して二次抵抗を増加する方法が用いられている。かご形誘導電動機の場合は二次巻線に抵抗器を接続することができないので、 (2) ，二重かご形などの回転子構造が用いられる。

図1は二重かご形の回転子構造である。回転子の表面に近い外側巻線は断面積が小さく、巻線抵抗 r_2 が大きい。一方、下部の内側巻線は断面積が大きく、巻線抵抗 r_3 は r_2 に比べて小さい。また、内側巻線にだけ鎖交する磁束 ϕ_3 が生じるため、外側巻線に比べ、内側巻線の方が (3) が大きい。誘導電動機の滑りを考慮して二次側のインピーダンスを一次換算すると、図2の等価回路が得られる。通常の運転時には、滑り s は小さく、 x'_3 に比べて $\frac{r'_3}{s}$ の等価抵抗が大きくなる。このとき x'_3 を無視すれば、 $\frac{r'_2}{s}$ と $\frac{r'_3}{s}$ との並列接続とみなせる。したがって、 r'_2 と r'_3 との並列抵抗が二次抵抗として働くため、二次銅損を低減して高効率な運転ができる。これに対して、始動時は (4) が高くなるため、 (5) 巻線にはほとんど電流が流れず、通常の運転時に比べて二次抵抗が増加したことになり、始動トルクを増加させることができる。

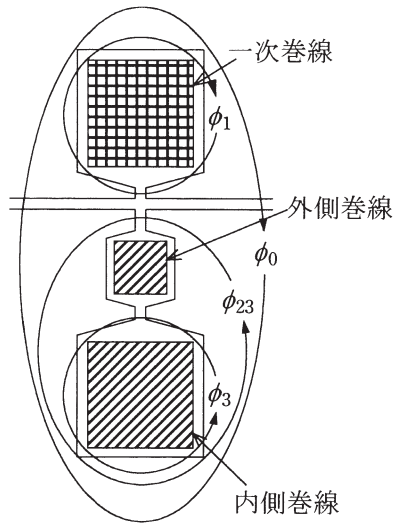


図 1

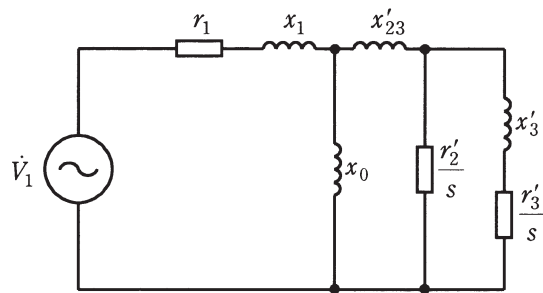


図 2

[問 1 の解答群]

- | | | | |
|---------------|-----------|-----------|-----------|
| (イ) コンデンサ始動形 | (ロ) 比例推移 | (ハ) 一 次 | (ニ) 二次周波数 |
| (ホ) 励磁電流 | (ヘ) スキュー形 | (ト) 巻線抵抗 | (チ) 外 側 |
| (リ) 漏れインダクタンス | (ヌ) 一次周波数 | (ル) 増磁作用 | (ツ) 内 側 |
| (ワ) 2 回転磁界理論 | (カ) 鉄損抵抗 | (コ) 深溝かご形 | |

問2 次の文章は、三相変圧器に関する記述である。文中の に当てはまる最も適切なものを解答群の中から選びなさい。

定格容量 $100 \text{ [kV}\cdot\text{A]}$, 定格一次電圧 6600 [V] , 定格二次電圧 200 [V] , 定格周波数 50 [Hz] の Y- Δ 結線の三相変圧器がある。この変圧器を定格で使用したときの二次巻線の相電流は, (1) [A] である。一次電圧と二次電圧との位相差は (2) [rad] である。変圧器の励磁電流には, 鉄心の非線形特性のために, 高調波成分が含まれる。この内, 電源周波数の (3) 倍の周波数成分は, 三つの相で同相であり, 二次巻線で環流する。

この変圧器の二次端子に $2 \text{ [}\Omega\text{]}$ の抵抗器 3 台を星形結線で接続し, 一次端子に定格電圧を印加した。変圧器の短絡インピーダンス及び励磁電流を無視したとき, 一次電流は, (4) [A] となる。

この変圧器を同じ定格電圧の 60 [Hz] で使用することは (5) 。

[問2の解答群]

(イ) 1.75

(ロ) できる

(ハ) $\frac{\pi}{3}$

(ニ) 2

(ホ) 3

(ヘ) $\frac{\pi}{6}$

(ト) 3.03

(チ) できない

(リ) 5

(ヌ) 5.25

(ル) 167

(フ) 289

(ワ) 500

(カ) $\frac{\pi}{4}$

(コ) できるが容量が $\frac{1}{1.2}$ 倍になる

問3 次の文章は、インバータによる電動機の運転に関する記述である。文中の [] に当てはまる最も適切なものを解答群の中から選びなさい。

電動機の運転にインバータを用いる場合、次式で表される電動機トルク T_M と (1) との積である電動機出力を満たすインバータ容量が必要である。

$$T_M = J \frac{d\omega_r}{dt} + T_L$$

ここで、 J は軸系の慣性モーメント、 ω_r は回転角速度、 T_L は負荷トルクである。右辺の第1項は慣性力に抗するトルクであり、一定の負荷トルクが長時間継続するファン、ポンプなどの用途では、この第1項のトルク発生は限られた時間の動作となる。したがって、そのような用途では、第1項に要する出力に相当する (2) をもつインバータの選択が経済的なインバータ容量となる。

三相誘導電動機のトルク又は回転速度の制御には主に二つの方法がある。

一つめは、インバータの出力電圧の大きさと周波数とを制御する方法である。電動機の1相当りの等価回路は (3) にある電動機の特性を表すので、それに与える電圧及び周波数を決めると、ある運転点における平均トルクが求まる。したがって、その電圧及び周波数をインバータで発生することで平均トルクの制御ができることになる。この代表例が V/f 一定制御である。

二つめは、インバータの出力電流をその大きさと位相とを含めて制御する方法である。電動機の一次回路と二次回路とを電圧方程式で記述することによって、電流及び瞬時トルクを求めることができる。ベクトル制御を用いて電流を制御することによって、一次電流に含まれる (4) 電流と磁束成分電流は個別に制御することができるので、他励直流電動機と同等の良好なトルク特性となる。このとき、二次の鎖交磁束の位置、すなわち磁束軸をとらえる必要がある。その方法として、直接磁束を検出することをしないで、そのときの回転子の位置に (5) を加算して磁束軸を求める制御方法が多く用いられている。

[問3の解答群]

- | | | |
|------------|----------------|----------------|
| (イ) 過負荷耐量 | (ロ) 一次角周波数の積分値 | (ハ) 定出力運転容量 |
| (ニ) 定常状態 | (ホ) 一次電圧 | (ヘ) 滑り角周波数の積分値 |
| (ト) 電機子成分 | (フ) 一次電流 | (リ) 加減速状態 |
| (ヌ) 連続定格容量 | (ル) トルク成分 | (ヲ) 有効成分 |
| (リ) 過渡状態 | (カ) 一次角周波数の微分値 | (ヨ) 回転角速度 |

問4 次の文章は、アーク加熱に関する記述である。文中の [] に当てはまる最も適切なものを解答群の中から選びなさい。

製鋼用アーク炉はアーク加熱の代表的な例であり、商用周波数の三相交流をそのまま用いる交流アーク炉と直流に整流して用いる直流アーク炉とがある。両者共に電圧は数百ボルト程度、電流は数千アンペアから数万アンペア以上のアークを [(1)] と被加熱物である鉄くずや還元鉄との間に発生させて加熱・溶解する。大容量の電気負荷であるため、その負荷変動や波形ひずみが [(2)] や高調波などの電源障害の発生源となるので、対策が必要な場合がある。

交流アーク炉では、炉用変圧器二次側の電極までの三相回路の [(3)] が不平衡であるとアーク電圧に高低を生じ、局所的に高温となって炉壁を損傷するため、各相導体の三角配列などによってアーク電圧の不平衡を解消する必要がある。一方、直流アーク炉では、直流母線に流れる電流が作る磁場によってアーク [(4)] が発生することで、被溶解物の不均一溶解や炉内にホットスポットを生成する原因となり、母線の配置には工夫が必要となる。

両者を電源系統に与える影響で比較すると、アーク発生から消滅までの入力の有効-無効電力特性などから [(5)] の方が影響が少なく、同一定格容量の場合、弱小電源系統への接続が比較的容易である。

[解答群]

- | | | | |
|--------------|-------------|-----------|------------|
| (イ) フラッシュオーバ | (ロ) キャパシタンス | (ハ) 黒鉛電極 | (ニ) レジスタンス |
| (ホ) リアクタンス | (ヘ) ハンチング | (ト) 固定電極 | (チ) 偏磁 |
| (リ) 炉底電極 | (ヌ) フリッカ | (ル) 偏流 | (フ) 直流アーク炉 |
| (ワ) 交流アーク炉 | (カ) 偏向 | (ヨ) リンギング | |

B問題（配点は1問題当たり小問各2点，計10点）

問5 次の文章は，突極形同期機の制動巻線に関する記述である。文中の に当てはまる最も適切なものを解答群の中から選びなさい。

突極形同期機の回転子の (1) に設けたスロットに (2) 又は黄銅棒を挿入し，かご形誘導電動機の (3) 巻線のように短絡環によって相互に接続して構成する巻線を制動巻線という。負荷の急変に伴う同期機の過渡運転の状態において回転子の回転速度に動揺が起こると，電源（系統）周波数で決まる同期速度との間に滑りが生じ，この巻線に誘導電動機としてのトルクが発生する。このトルクは速度変動を抑える方向に働く。

この巻線は，電機子巻線と界磁巻線の磁路中に介在する (4) インピーダンス巻線であるため，制動の機能以外に三相不平衡負荷に起因する逆相磁界又は負荷電流のひずみなどに起因する (5) を吸収する効果がある。

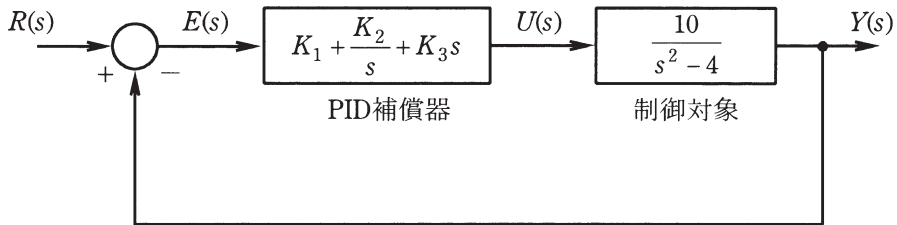
〔解答群〕

- | | | | |
|-----------|----------|-----------|-------------|
| (イ) 銅 棒 | (ロ) 継 鉄 | (ハ) 一 次 | (ニ) 高 |
| (ホ) 低 | (ヘ) 過 大 | (ト) 電機子鉄心 | (チ) 鉄 棒 |
| (リ) 正相磁界 | (ヌ) 磁極頭部 | (ル) 励 磁 | (ヲ) ステンレス鋼棒 |
| (リ) 高調波磁界 | (カ) 二 次 | (ヨ) 零相磁界 | |

問6 次の文章は、図のフィードバック制御系に関する記述である。文中の に当てはまる最も適切なものを解答群の中から選びなさい。

図において、 $R(s)$ は目標値、 $E(s)$ は偏差、 $U(s)$ は操作量、 $Y(s)$ は出力を表し、時間信号 $r(t)$ 、 $e(t)$ 、 $u(t)$ 、 $y(t)$ をそれぞれラプラス変換したものである。この制御対象は、 (1) な特性をもつ。この制御対象に対して、パラメータ K_1 、 K_2 、 K_3 をもつ図のPID補償器によってフィードバック制御を行う。このとき、PID補償器の積分時間は (2) で与えられる。

$R(s)$ から $Y(s)$ までの閉ループ伝達関数の望ましい極が、 -30 、 $-3 \pm j4$ になるように補償器のパラメータを求めると、 $K_1 = \text{input type="text"/> (3)$ 、 $K_2 = 75$ 、 $K_3 = \text{input type="text"/> (4)$ となる。このとき、閉ループ伝達関数は三次系となるが、 $R(s)$ から $Y(s)$ までの応答は、 $-3 \pm j4$ を (5) とする二次系の応答に近似できる。



[解答群]

- | | | | |
|-----------------------|---------|----------|-----------|
| (イ) 開ループ極 | (ロ) 代表根 | (ハ) 14.9 | (ニ) 不安定 |
| (ホ) $\frac{K_2}{K_1}$ | (ヘ) 1.5 | (ト) 漸近安定 | (フ) K_2 |
| (リ) 25.9 | (ス) 2.6 | (ル) 20.9 | (エ) 3.6 |
| (リ) $\frac{K_1}{K_2}$ | (カ) 安定 | (ヨ) 補償極 | |

問7及び問8は選択問題です。問7又は問8のどちらかを選んで解答してください。
(両方解答すると採点されませんので注意してください。)

(選択問題)

問7 次の文章は、光源の光性能の表し方に関する記述である。文中の に当てはまる最も適切なものを解答群の中から選びなさい。

光源の光に関する性能は、 (1) (2) (3) , 光源色, 演色性などで表される。

(1) は、光源がすべての方向に放出する放射束のうち、人間の目の感度に基づいて評価した量の総和である。人の明るさ感覚に関係する光源の性能を表す場合に用いられる。

(2) は、光源が発する (1) を、その光源の消費電力で除した値である。光源の省エネルギー性の評価などに用いられる。

(3) は、光源から空間に放射される光度、すなわち、光の強さの分布である。

光源色は、光源から放射される光の色である。白色光源の光が、赤味を帯びているか、青味を帯びているかを表す指標であり、一般に (4) で区別される。

演色性は、光源で照明した種々の物体の色の見えに及ぼす光源の特性である。日本工業規格(JIS)に規定されている演色評価数は、評価しようとする光源で照明したときの色の見えが、 (5) で照明したときの見えにどれだけ近いかで評価される。見えが同じ場合を100とし、差が大きくなるに従って小さな値をとる。

[解答群]

- | | | | |
|----------|----------|----------|----------|
| (イ) 照度分布 | (ロ) マンセル | (ハ) 基準の光 | (ニ) 自然光 |
| (ホ) 白色度 | (ヘ) 視感効率 | (ト) 全放射束 | (チ) 光源効率 |
| (リ) 照明効率 | (ヌ) 色温度 | (ル) 配光 | (フ) 輝度分布 |
| (ワ) 全光量 | (カ) 全光束 | (コ) 標準の光 | |

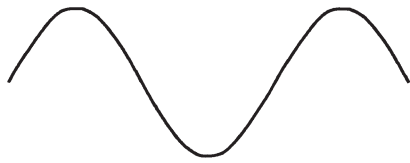
(選択問題)

問 8 次の文章は、伝送信号の変調方式に関する記述である。文中の に当てはまる最も適切なものを解答群の中から選びなさい。

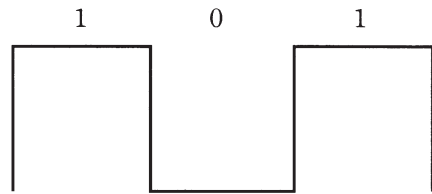
音声信号などのアナログ信号、コンピュータからのデジタル信号などの原信号を伝送路に適した波形に変換する操作を変調と呼ぶ。変調を行うには、 (1) と呼ばれる適当な周波数をもつ信号のパラメータの一つ又は複数を、原信号に応じて変化させる。伝送路を通した後、この変調を受けた波形から原信号を取り出す操作を (2) と呼ぶ。

アナログ信号を変調する方式としては、 (1) を変化させるパラメータによって、振幅の変化で変調する振幅変調(AM)、周波数の変化で変調する周波数変調(FM)、位相の変化で変調する位相変調(PM)などがある。図 1 は、このうち (3) を示している。

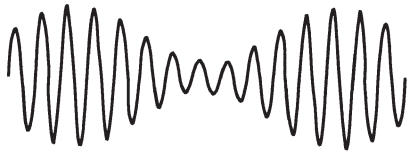
一方、デジタル信号を変調する方式としては、デジタルの符号に応じて (1) を不連続的に偏移させる (Shift Keying) パラメータによって、振幅偏移変調(ASK)、周波数偏移変調(FSK)、位相偏移変調(PSK)、さらに、振幅変調と位相変調とを組み合わせた方式の一つに (4) (QAM)がある。図 2 は、このうち (5) を示している。



入力信号

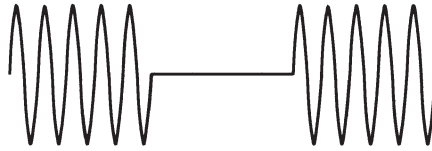


入力信号



変調後の波形

図 1



変調後の波形

図 2

[問 8 の解答群]

- | | | | |
|------------|------------|---------|------------|
| (イ) 擬似波 | (ロ) AM | (ハ) FSK | (ニ) 高調波 |
| (ホ) 組合せ変調 | (ヘ) FM | (ト) ASK | (チ) PSK |
| (リ) 復元 | (ヌ) PM | (ル) 復調 | (フ) 位相振幅変調 |
| (ワ) A/D 変換 | (カ) 直交振幅変調 | (コ) 搬送波 | |

●平成25年度第二種電気主任技術者一次試験標準解答

<理論>

問1					問2					問3					問4				
(1)	(2)	(3)	(4)	(5)	(1)	(2)	(3)	(4)	(5)	(1)	(2)	(3)	(4)	(5)	(1)	(2)	(3)	(4)	(5)
ハ	ホ	リ	イ	ロ	ロ	リ	チ	ト	ヨ	ハ	ル	イ	ロ	ニ	ヨ	ロ	イ	ヲ	ホ

問5					問6					問7					問8				
(1)	(2)	(3)	(4)	(5)	(1)	(2)	(3)	(4)	(5)	(1)	(2)	(3)	(4)	(5)	(1)	(2)	(3)	(4)	(5)
チ	リ	ホ	ワ	イ	ワ	ヲ	ト	チ	ヨ	ヌ	ル	ホ	ヘ	リ	ヲ	ニ	ロ	ル	カ

<電力>

問1					問2					問3					問4				
(1)	(2)	(3)	(4)	(5)	(1)	(2)	(3)	(4)	(5)	(1)	(2)	(3)	(4)	(5)	(1)	(2)	(3)	(4)	(5)
ル	ワ	イ	ヲ	ハ	チ	ニ	ハ	ワ	ロ	ト	ヨ	チ	ヌ	ロ	ホ	ロ	ヌ	ル	イ

問5					問6					問7				
(1)	(2)	(3)	(4)	(5)	(1)	(2)	(3)	(4)	(5)	(1)	(2)	(3)	(4)	(5)
ヘ	ハ	ヨ	ホ	ヌ	ヌ	ト	ヨ	チ	ロ	ヌ	ワ	ホ	チ	イ

<機械>

問1					問2					問3					問4				
(1)	(2)	(3)	(4)	(5)	(1)	(2)	(3)	(4)	(5)	(1)	(2)	(3)	(4)	(5)	(1)	(2)	(3)	(4)	(5)
ロ	ヨ	リ	ニ	ヲ	ル	ヘ	ホ	イ	ロ	ヨ	イ	ニ	ル	ヘ	ハ	ヌ	ホ	カ	ヲ

問5					問6					問7					問8				
(1)	(2)	(3)	(4)	(5)	(1)	(2)	(3)	(4)	(5)	(1)	(2)	(3)	(4)	(5)	(1)	(2)	(3)	(4)	(5)
ヌ	イ	カ	ホ	ワ	ニ	ワ	ル	ヲ	ロ	カ	チ	ル	ヌ	ハ	ヨ	ル	ロ	カ	ト

<法規>

問1					問2					問3					問4				
(1)	(2)	(3)	(4)	(5)	(1)	(2)	(3)	(4)	(5)	(1)	(2)	(3)	(4)	(5)	(1)	(2)	(3)	(4)	(5)
ヘ	ヲ	ハ	ニ	ワ	ホ	ハ	カ	イ	ワ	ヲ	ヘ	ル	ヌ	チ	ヨ	リ	ハ	ヘ	ヲ

問5					問6					問7				
(1)	(2)	(3)	(4)	(5)	(1)	(2)	(3)	(4)	(5)	(1)	(2)	(3)	(4)	(5)
ル	ロ	チ	ハ	ヨ	ニ	ル	ホ	ヨ	ヌ	リ	ト	ワ	ロ	チ